

出題教師：周雅媚 老師

審題教師：徐沛筠 老師

※請注意作答時間的掌控，祝考試順利！！

一、基本能力測驗：20% (每題 1 分)

- B 1 「罹」患疾病 (A) ㄌㄨㄟˊ (B) ㄌㄨㄟˋ (C) ㄌㄨㄟˊ (D) ㄌㄨㄟˋ
- A 2 身陷「囹圄」 (A) ㄌㄨㄟˊ ㄌㄨㄟˋ (B) ㄌㄨㄟˋ ㄌㄨㄟˊ (C) ㄌㄨㄟˋ ㄌㄨㄟˋ (D) ㄌㄨㄟˊ ㄌㄨㄟˊ
- C 3 暴「漲」 (A) ㄕㄨㄤˋ (B) ㄕㄨㄤˊ (C) ㄕㄨㄤˋ (D) ㄕㄨㄤˊ
- B 4 審「度」 (A) ㄉㄨˋ (B) ㄉㄨˊ (C) ㄉㄨˋ (D) ㄉㄨˊ
- A 5 如虎添「一」 (A) 翼 (B) 冀 (C) 益 (D) 益
- A 6 「ㄩ」鎖 (A) 枷 (B) 咖 (C) 珈 (D) 珈
- B 7 選出「注音錯誤」者：(A) 「拚」命搏鬥：ㄆㄧㄢˋ (B) 感「慨」萬千：ㄎㄞˋ (C) 修「葺」房屋：ㄑㄩˋ (D) 感「慨」萬千：ㄎㄞˋ
- A 8 選出「用字錯誤」者：(A) 鬼鬼「崇崇」(B) 「崇」拜(C) 作「祟」(D) 作「祟」
- C 9 選出「國字正確」者：(A) 危言「厶厶厶」聽：悚 (B) 令人心「厶厶厶」：慙 (C) 山勢高「厶厶厶」：聳 (D) 令人心「厶厶厶」：慙
- C 10 選出「注音相同」者：(A) 禁「錮」在房／「箇」中滋味 (B) 「炸」彈／「炸」雞 (C) 「彌」補過失／煙霧「瀰」漫 (D) 「炸」彈／「炸」雞
- C 11 選出「字形相異」者：(A) 球技精「ㄕㄨㄤˋ」／「ㄕㄨㄤˋ」藍天空 (B) 「ㄒㄩㄟˋ」麗多姿／「ㄒㄩㄟˋ」爛煙火 (C) 風塵「ㄉㄨㄟˋ」／待琢「ㄉㄨㄟˋ」玉 (D) 風塵「ㄉㄨㄟˋ」／待琢「ㄉㄨㄟˋ」玉
- A 12 選出「用字完全正確」者：(A) 弄巧成拙 (B) 精心雕拙 (C) 勤能補琢 (D) 勤能補琢
- B 13 選出「音義正確」者：(A) 靶：ㄊㄞˋ，射擊的目標 (B) 肇：ㄕㄨㄤˋ，引起 (C) 銬：ㄎㄞˋ，刑具 (D) 肇：ㄕㄨㄤˋ，引起
- A 14 選出「用字完全正確」的句子：(A) 生活，而非被生活俘擄 (B) 他因犯罪而遭到警方通緝 (C) 考試臨陣磨鎗，成效有限 (D) 他因犯罪而遭到警方通緝
- B 15 選出與「慙慙」意思不同者 (A) 煽動 (B) 躁動 (C) 鼓動 (D) 鼓動
- C 16 選出「解釋正確」者：(A) 「幾」可亂真：差距十分大 (B) 出人意「表」：內 (C) 與人無「干」：關係 (D) 出人意「表」：內
- B 17 「飲泣」的意思是 (A) 喜極而泣樣子 (B) 暗自傷心的樣子 (C) 吃飽喝足的樣子 (D) 吃飽喝足的樣子

※以下請根據句子前後的意思，為「」中的語詞選出適切的解釋代號。(請用代號作答)

- (A) 時間流轉，世事變遷。 (B) 轉瞬即逝。
(C) 詳細的解釋事物。 (D) 不會磨滅。

- B 18. 為窮人付出奉獻的德雷莎修女留給了後世「不朽」的典範。
A 19. 儘管「物換星移」，我們的友情也不會改變。
C 20. 美學大師蔣勳先生的《紅樓夢青年版》對《紅樓夢》一書有著動人的新「詮釋」。

二、綜合測驗題 40% (每題 2 分)

- B 21. 以下是同學們在聯絡簿上所寫的札記，老師批改時發現錯字連連，只有一個選項用字完全正確，請問是下列何者？
(A) 博瀚：父親常以逆水行舟勉勵我，為學必須努力不卸。
(B) 小睿：考試失利，讓向來自得的我頹喪不已，該力圖振作。
(C) 承均：這件事對我而言是個關鍵的轉戾點，改變日後一生。
(D) 彥榮：工程師正拿著設計藍圖，對校園土地進行堪查。

- C 22. 杏林子〈心囚〉表露個人對於「囚」之感受，文末：「比起我，到底誰更像是囚犯呢？」以反問手法作結，其作用為何？
(A) 營造懸疑感 (B) 增添趣味性
(C) 啟人再深思 (D) 警惕勿犯錯
- D 23. 可祐正在完成老師交代的「量詞配對」學習單，請幫他找出以下量詞的使用「完全正確」的選項？
(A) 一「匹」布／一「帖」中藥／一「棵」籃球。
(B) 一「兩」警車／一「枚」炸彈／一「把」玩具槍。
(C) 一「輪」新月／一「則」新聞／一「場」球賽。
(D) 一「手」好字／一「道」枷鎖／一「起」案件。
- B 24. 凡事講求差不多的差不多先生參加〈一字千金〉的節目錄影，在「國字大考驗」時只寫對一道題目。請問，他寫對的是下列哪一個選項？
(A) 趨之若「鶩」 (B) 心無旁「鶩」
(C) 好高「鶩」遠 (D) 雞「鶩」爭食
- D 25. 以下為紘禎在填寫國文習作的內容，請問下列各選項引號中的國字，何者「讀音前後並不相同」？
(A) 「荷」槍實彈／不堪負「荷」。
(B) 積「蓄」頗豐／「蓄」謀已久。
(C) 「幾」可亂真／一蹴可「幾」。
(D) 心裡有「數」／「數」一數二。
- C 26. 太宇寫了一封情書，但是信裡面「」中的詞語只有一個使用「正確」，請問是下列哪一個？

親愛的真心：
我「沉溺」妳很久了，只是不知道要如何才能對妳「回心轉意」，這次若不是妳「苦口婆心」地勸誡我，我還不知道要「銀鐺入獄」到什麼時候？謝謝妳，我愛妳！
太宇

- (A) 沉溺 (B) 回心轉意
(C) 苦口婆心 (D) 銀鐺入獄
27. 課堂上老師請同學發表閱讀心得，關於〈無心的錯誤〉一文中父親告誡孩子的文句，選出下列解讀「正確」選項？
(A) 你明知在紐約放炮是違法的，卻答應朋友來放炮。——兒子明知故犯，應自我警省。
(B) 如果引起火災，我們要承受的法律責任有多大。——提醒兒子要學會勇於承擔責任。
(C) 母親說：「他的朋友又慙慙他開這個玩笑，他也可能會做的。」——兒子處事不夠謹慎，鐵定會犯下類似嚴重錯誤。
(D) 今天你還小，如果當你長大之後，還不能慎交朋友，就會惹上麻煩。——兒子長大後交朋友定會惹上麻煩。
- B 28. 吉胖喵參加妖怪盃「大家來找碴」比賽，下列哪一文句用字「最為精簡」？
(A) 如果沒有歷經辛苦苦練，天賦再高也難有高成就。
(B) 只要突破心靈的枷鎖，這世界沒什麼能限制住你。
(C) 因為受不住朋友的請求拜託，他只好答應相助。
(D) 不知如何彌補補救所犯的錯誤，我只能鞠躬道歉。

29. 小說透過人物對話、動作故事情節呈現角色的性格，關於〈藍色串珠項鍊〉一文，下列敘述何者**有誤**？

- (A) 琴花光全部積蓄，想買最棒的耶誕禮物給辛苦的姐姐：琴天真感恩
- (B) 回憶帶來痛苦，在生意興旺的十天裡，彼得甚至想從來採買耶誕禮物的顧客身邊逃走：彼得空虛寂寞
- (C) 琴的姐姐到彼得的店求證項鍊實際價錢：姐姐誠實不貪
- (D) 彼得若有所思的看著她，然後小心收起項鍊遮住標價不讓女孩看到：彼得頑皮可愛

30. 班際籃球賽中，克乾表現精采，攻守俱佳，帶領班上贏得冠軍。關於他在場上的球技表現，以下哪項成語描述**有誤**？

- (A) 出神入化 (B) 爐火純青
- (C) 神出鬼沒 (D) 神乎其技

31. 下列選項所描述的事例，何者**不能**映證「天生我才必有用」的道理？

- (A) 晉代祖逖胸懷坦蕩、具有遠大抱負，立志恢復中原，半夜聞雞啼叫，立即起床操練武藝，終成為能文能武的全才。
- (B) 史蒂芬霍金，上天讓他失去了常人所具備的運動能力，只能被固定在一輪椅上，僅憑著幾隻可以活動的手指用鍵盤來表達自己的思想，他憑藉著自己的智慧與艱辛的努力，寫出了著名的《時間簡史》，推動了科學界的飛速發展。
- (C) 乙武洋匡從小四肢殘缺，但他說：「既然有殘障者做不到的事，應該也有只有殘障者才做得到的事。」後來他成為常人都不能做到的著名作家。
- (D) 史蒂芬·史匹柏高中的成績非常差，沒有任何電影科系願意准許他入學。現在，不僅製作了許多評價極高的影片，更成為家喻戶曉的大導演。

32. 老皮為了救阿寶而向冰霸王挑戰，第一關卡為「映襯」修辭：其意義為將兩種不同的，特別是相反的觀念或事實，並列起來，兩相比較，從而使語氣增強，意義明顯。請從下列選出「映襯」的選項？

- (A) 有些人看似生活得繁華熱鬧，卻往往是天底下最寂寞的人，因為他們把自己的心封閉了。
- (B) 世界上多的是身體健康，卻心理不健全的人。
- (C) 他們看似自由，卻心陷囹圄。
- (D) 腿不能行，肩不能舉，手不能彎，頭也不能自由轉動。

33. 國文課進行段考複習時，以下同學運用所學過的成語練習造句的文句，何者**有誤**？

- (A) 家碩：他們各執己見，爭論不休，我就不要插嘴，以免遭受「池魚之殃」。
- (B) 閔源：要為自己的人生設定方向，勿終日無所事事，犯了「無心之失」。
- (C) 芸廷：請不要常說「違心之論」。這樣將會使你同那些表裡不一的庸俗之輩歸於一類。
- (D) 彥甫：隨著智慧手機的普及，網路謠言大量快速傳播，別輕易相信「無稽之談」。

34. 「眼花□亂、官□作風、春色□人、字跡□草、星火□原、煙霧□繞、手□腳鏟」以上是認真的震泰整理課堂所學得「相似字」之詞語，請依序幫他把詞語□中填入**正確**的字。

- (A) 繚、撩、燎、繚、潦、瞭、療
- (B) 瞭、僚、繚、潦、撩、燎、繚
- (C) 撩、僚、撩、潦、燎、繚、繚
- (D) 療、繚、繚、潦、僚、瞭、撩

35. 「小女孩忙著打開手帕的結，倒出一把硬幣，放在櫃臺上。『這是我全部的積蓄。』她簡單的解釋：『我一直在存錢要買禮物送給姐姐。』」以上內容中「全部」、「一直」的用詞醞釀出對姐姐的**何種**情意？

- (A) 積蓄有限的無可奈何 (B) 因家境貧困而窘迫不安
- (C) 對收到禮物充滿期待 (D) 毫無保留且綿密的愛

36. 國文課上完〈音樂家與職籃巨星〉一文後，同學於課堂上所作的筆記資料，疏漏多處，請指出何者才是**正確**的文意說明？

- (A) 小玉：「被譽為二十世紀最佳鋼琴曲目詮釋者的魯賓斯坦，像巴哈、莫札特般，是個音樂神童，三歲時就彈得一手好鋼琴」說明魯賓斯坦具音樂天分，媲美巴哈、莫札特。
- (B) 永澤：「即使音樂需要相當的天分，但魯賓斯坦強調的卻是『苦練』，而非『天分』。」說明天分對人的影響重大，難以克服。
- (C) 小丸子：「他以苦練來彌補身高上的不利，在練球時，他總是第一個到場，最後一個離開。」可見他生性懶散，必需比別人多花時間練習。
- (D) 花輪：「苦練沒有什麼指望的事情，到頭來也許只是白費心血。這當然有部分的真實性，不過世事往往有出人意料者。」意指就算艱苦鍛鍊，沒有指望的事情依然難以達成。

37. 以下記者羽婷正在撰寫新聞稿內容，請替她找出成語**誤用**的文句。

- (A) 大地震後，屋舍倒塌，山川面目全非，現場讓人「嘆為觀止」，哀鴻遍野。
- (B) 全國各地的人們紛紛「慷慨解囊」支援災區的重建工作。
- (C) 不肖廠商趁機哄抬物價，民眾「人心惶惶」，瘋搶物資。
- (D) 提醒業者：妄想把不法行為合法化，只不過是「掩耳盜鈴」的把戲罷了。

38. 〈賣油翁〉一文中，賣油翁見陳堯咨「發矢十中八九」後，做出「但微頷之」的動作，可推論賣油翁想要表達什麼意思？

- (A) 肯定陳堯咨的箭術，贊同他的射箭技術無人能與之匹敵。
- (B) 肯定陳堯咨的箭術，但覺得他的射箭技術僅是熟能生巧。
- (C) 否定陳堯咨的箭術，認定他的射箭技術沒什麼了不起。
- (D) 否定陳堯咨的箭術，認為他的射箭技術還可以更厲害。

39. 以下是若均在閱讀杏林子〈心囚〉一文後所作的心得筆記，表格中呈現作者與心陷囹圄的人的比較分析，請幫他檢查找出內容錯誤的欄位。

	杏林子	心陷囹圄的人
(A)身	疾病纏身，失去活動自由	身體健康，行動自如
(B)心	突破心靈束縛	封閉內心，心理不健全
外表	看似蒼白憔悴、鬱鬱寡歡	表面歡樂，看似繁華熱鬧
(C)內在	無憂無慮、自由自在	內心痛苦寂寞、找不到人生方向
(D)結果	心囚身不囚	身囚心不囚
結論	心陷囹圄的人更像是囚犯	

40. 「在不停響著的鐘聲裡，彼得·理查茲和一位他還不知道姓名的女性走向一個充滿希望和幸福的新開始。」以上為〈藍色串珠項鍊〉文末，作者不直接點破故事的結局，其用意如何？

- (A) 暗示彼得的未來仍充滿未知數。
- (B) 為這份情感發展留下美好的想像空間。
- (C) 製造懸疑緊張的氛圍，令人期待。
- (D) 細膩描繪彼得的未來人生可能性。

三、文意判讀測驗 20% (每題 2 分)

41. 〈賣油翁〉一文中，從「公亦以此自矜」到「爾安敢輕吾射」以及最後「笑而遣之」，表現出陳堯咨的情緒變化，請問他的情緒轉變應該是如何？

- (A) 自負→懷疑→釋懷 (B) 憤怒→釋懷→自負
(C) 自負→憤怒→釋懷 (D) 懷疑→憤怒→自負

42. 「魯賓斯坦的演出或錄音從不因年齡漸增而停滯，他有源源不絕的活力來面對每一次演出，甚至在九十歲時，還能和女兒一起跳著他最愛的馬厝卡舞曲。」關於這段敘述，下列何者用來形容魯賓斯坦最為貼切？

- (A) 活到老，學到老，難解的問題日漸少。
(B) 世上無難事，只怕有心人。
(C) 少壯不努力，老大徒傷悲。
(D) 一寸光陰一寸金，寸金難買寸光陰。

43. 「如果喬丹要等到自己長得『夠高』，才加緊練習球技，那可能為時已晚。」這段話的涵義，與下列何者最相近？

- (A) 等待機會的同時，也要不斷地壯大自己
(B) 臨陣磨鎗，不亮也光。
(C) 經一番挫折，長一番見識。
(D) 老天爺給你機會的時候，你千萬不要猶豫。

44. 「天才是不足恃的，聰明是不可靠的，順手揀來的偉大科學發明是不可想像的。」這段文字最可能是在傳達下列何者的重要性？(A) 想像 (B) 天賦 (C) 運氣 (D) 務實。

45. 「我母親不肯順我的意買東西給我，我調頭就往外走，本想藉此給她一個□□—妳的小孩因為妳的某次小氣而消失，或者因此被壞人抓走。沒想到走了一小段路再回頭，發現她沒有追來，只好硬著頭皮繼續走，就這樣走到誰也找不到誰的地步。我假裝堅強走了一陣子，覺得累了，但實在不知道怎麼回家，只好看誰能帶我回去。」(董成瑜〈一個人的生活文〉) 根據以上文意，中缺空處應填入下列何者？

- (A) 報應 (B) 驚喜 (C) 警惕 (D) 鼓勵。

用山水把風景 () 出來。 商禽〈茶〉

46. 這是一首「一句詩」，() 中依文義應填入何字？
(A) 畫 (B) 煮 (C) 醃 (D) 拍。

47. 「人生路上，免不了面臨挫折，少不了惡言中傷。何不轉念把挫折視為挑戰？_____，挫折過後，我們生命中的每一顆果實，都會是飽滿而甜蜜的。」根據文意，畫線處填入下列何者最恰當？

- (A) 強摘果子不甜 (B) 瓜熟自然蒂落
(C) 秋橘經霜才甜 (D) 賣瓜的說瓜甜

美好的事物不會降臨在傻傻等待的人身上，它只會降臨在那些追逐目標和夢想的人身上。

下列喬丹的名言，哪一句和上文含義最為接近？

- (A) 如果有人超越我，我絕不讓他超越我第二次。
(B) 人生要有成就，就得勇往直前，不畏艱難。
(C) 我能接受失敗，但無法接受放棄。
(D) 天才可以贏得一些比賽，團隊合作才能贏得冠軍。

49. 「凡自滿於其所作為者，已達其事業的頂點，便再無進步可能。」這段話的意思與下列何者最相近？

- (A) 玉不琢，不成器。 (B) 言必信，行必果。
(C) 吃一塹，長一智。 (D) 滿招損，謙受益。

頒獎的音樂奏起了，但是，第一名的人興奮得休克，送醫急救無法領獎。第二名的人不甘心輸了，拒絕領獎。第四名的人說，因為不是前三名，沒有臉領獎。第五名的人說，第四名都不想領獎了，實在不好意思領獎。第三名的我，站在司令臺上，望著 ()，不禁覺得有些孤單，唉！這明明是個快樂的時刻呀……

50. 文中的「我」要強調「孤寂」之心境，() 中應填入以下哪段文句可以正面襯托此心情？

- (A) 櫃上成列的耀眼獎盃 (B) 欣欣向榮的青青草地
(C) 光彩燦爛的明媚陽光 (D) 徘徊天際的寥落白雲

四、閱讀能力測驗 20% (每題 2 分)

有一天，德國詩人歌德在公園裡散步，不巧在僅能容一個人通過的小徑上，遇到了一個曾經把他的作品批評得一文不值的評論家。兩個人面對面站著，那位評論家傲慢地說：「我從來不讓路給傻子！」「我正好跟你相反。」歌德微笑著，說完就站到一邊去了。

51. 文中歌德所言：「我正好跟你相反」此句，其內容相當於：

- (A) 我都會讓路給傻子 (B) 我都會讓路給聰明人
(C) 我也不會讓路給傻子 (D) 我也不會讓路給聰明人

在英國，高中畢業後進到大學之前約有一年的時間不隸屬於任何學校，既不是高中生也不是大學生，這段時間可以隨意安排，依據自己的意願從事志工活動、學東西或是環遊世界皆可，這起源於英國貴族的壯遊，被稱為「空白年」。(久恆辰博〈幸福腦：50 個腦科學實證的幸福習慣〉)

52. 依據以上內容判讀，設定「空白年」的用意為何？

- (A) 仿效英國貴族的生活方式，體驗貴族生活。
(B) 活化所學得的知識、擴充生活經驗。
(C) 把握時間好好休養，避免過於疲累。
(D) 利用這段時間籌措大學學費，順利升學。

他很普通，沒有什麼大作為，因此一直覺得活著沒什麼意義。

一天，他向一位哲學家請教：「你能告訴我，像我這樣的人，活著有什麼意義嗎？」

哲學家想了想，便隨手拾起了樹底下的一塊石頭來，遞給他說：「你把這塊石頭拿到市場上去賣，但要記住，無論別人出多少錢，你都不要賣。」他這樣做了。沒想到的是，由於他堅決不肯出售，人們反而認為他的石頭裡藏著什麼祕密，因此價錢越出越高。

第二天，按照著哲學家的意思，他又把石頭拿到了玉石市場來賣。結果，由於他還是不肯出售，價格又是一路飆升，已經遠遠超過一般玉石的行情了。

第三天，哲學家又告訴他到珠寶市場去賣這塊石頭。最後，奇蹟出現了，這塊本來一文不值的普通石頭成了整個珠寶市場價格最高的商品，人們甚至以為它是千年不遇的珍奇化石。

「怎麼會這樣呢？」這人非常奇怪地問哲學家，

「這明明是一塊再普通不過的石頭嘛。」

「但是，」哲學家回答道，「當你非常珍惜它，把它當成是稀世珍寶時，它便擁有了無上的價值。生命不也一樣嗎？」這人一下子明白了。

人生的價值，是由人自己決定的。一個人只有做到自我珍視，逐步充實和完善自身，不斷提高自己的修養和品味，世界才會越來越認同他的價值。(翟文明〈石頭的價值〉)

C 53. 根據前文所述：這塊石頭最後的價值，可用下列哪個成語來形容？

- (A)微不足道 (B) 碩果僅存 (C) 敝帚千金 (D) 一文不值

C 54. 關於本文敘述，下列闡述何者正確？

- (A) 本文使用藉事說理的寫作手法，以第二人稱敘述故事，令人有設身處地之感。
 (B) 文中石頭價格節節攀升來自於專業鑑定過後確認其珍貴價值。
 (C) 文末提到「人生的價值……世界才會越來越認同他的價值。」這段話揭示我們「人必自重，而後人重之」的道理。
 (D) 全文主旨在說明：人不可貌相，海水不可斗量，警示我們勿以貌取人。

〈這樣才叫朋友〉／吳淡如

我的朋友並不少，不過，如果要細分的話，一種叫作真的朋友；一種叫作熟人。

所謂朋友，是指道同而相為謀的人；所謂熟人，則是道不同但在某些地方必須相互合作的人。

其實，在我成長的路程之中，仰賴朋友之處多得難以計數。所謂的仰賴，又是心靈上比物質上多得多。我很幸運，不曾為了友情而痛苦，即使借了熟人錢，他賴了帳，也未嘗影響我的生計，因為，我還是只能量力而為，也因讀了法律系而恪遵教授囑咐「絕不為人做保」的原則，並沒有為朋友拖累過。(註：「恪遵」，注音ㄎㄨˋ ㄉㄨㄢ，謹慎遵守。)

但我相信，在人情味很濃的台灣，因為朋友而受累的很多很多。可能有人在小學時就曾被同學警告：「你如果不幫我，就不叫朋友。」所以從小就知道要講義氣才夠朋友，青春期就有「換帖兄弟」或「閨中密友」，凡事為朋友赴湯蹈火，在所不辭，變成一種不辨是非善惡的愚忠。

有人為了這份義氣變成殺人犯，或犯下了傷害罪。追究起原因來，他竟什麼也不知道，只知道是老大要他去砍人，或是替朋友出口烏氣，他就盡心盡力地剷除「我朋友的敵人」。這是沒大腦，也沒想清楚：別人是拿你當朋友，還是用你借刀殺人？真正的朋友不會借你的刀殺他要殺的人。

B 55. 根據上文作者的論點，以下何人可作為大雄「真正的朋友」？

- (A) 仗勢凌人威風八面的胖虎。
 (B) 富有且樂於分享玩具書籍的小夫。
 (C) 遇困難時無條件提供援助的哆啦A夢。
 (D) 能分享心事且相互勉勵的靜香。

P 56. 根據上文文意：請問「你如果不幫我，就不叫朋友」這句話富含何種語氣？

- (A) 激勵鼓舞 (B) 懇求請託 (C) 命令要求 (D) 警告威脅

B 57. 閱讀本文後，請判斷下列敘述與文章所要表達的意涵「不符合」？

- (A) 借熟人錢，要量力而為，以免他賴了帳影響我的生計。
 (B) 只要是朋友提出要求，縱使兩肋插刀也應該在所不辭。
 (C) 會借你的刀，去剷除敵手的朋友，並非真正的朋友。
 (D) 朋友之間講義氣必須在明辨是非善惡的原則下。

◎測驗主題：(甲)

◎測驗開始：某個愜意的假日午後，你看到一隻狗在路上跑，此時你心中的第一個念頭是？

- (ㄅ) 我有看錯嗎？
 (ㄆ) 狗怎麼可以在路上跑？
 (ㄇ) 是誰的狗跑出來了？
 (ㄎ) 好可愛的小狗喔！

◎解讀真心話：

(ㄅ) 我有看錯嗎？

(甲) 指數：20%

「消極面對挫折，率先否定自我」。遇到問題的時候，你常常會產生負面的情緒，較無辦法直視問題、解決問題。建議你先正視情緒、處理情緒，再處理要解決的事情，會較有效率。

(ㄆ) 狗怎麼可以在路上跑？

(甲) 指數：40%

「固執不知變通，需要調整心態」。你喜歡追根究底，卻常鑽牛角尖、陷入胡同走不出，並且過於在意他人看法。建議你不要太在意他人看法，也不要老往壞的方向去想。如果真的覺得太低潮，記得找朋友聊聊天，或看看書轉換思考角度。

(ㄇ) 是誰的狗跑出來了？

(甲) 指數：70%

「雨過天青，著眼機會，重新出發」。你算是冷靜型的人，面對問題，並不太在意結果，反而較注重事後處理的態度，不陷入懊惱情緒，趕緊處理問題、解決問題。

(ㄎ) 好可愛的小狗喔！

(甲) 指數：90%

「擁有轉念的能力，自體閃閃發光」。你是個超級陽光的人，遇到挫折能自我轉念、積極思考，能在最短時間內消化負面的情緒，然後勇往直前，挑戰自我。

A 58. 愷愷在報紙副刊看見上述的心理測驗，但測驗主題(甲)的部分湊巧被咖啡汙損了，請你依照情境判斷(甲)是什麼？

- (A) 正向力 (B) 觀察力 (C) 判斷力 (D) 忍耐力。

B 59. 愷愷將此篇心理測驗的「題目」，拿給最近因考試失利而悶悶不樂的妹妹看，妹妹選了(ㄅ)選項，如果你是愷愷，請你參考測驗結果，試想如何安慰她較為恰當？

- (A) 妹，我們一起去看場電影，好好放鬆一下，忘了這件事吧！
 (B) 妹，我們一起檢討考不好的原因，思考改進之道！
 (C) 妹，我覺得考試結果一點都不重要，不要想太多！
 (D) 妹，你已經考了好高的分數阿，比我厲害多了！

A 60. 積極活潑的秀瑩，總是樂觀開朗的面對生活，請問下列選項之論述最能呈現她的想法？

- (A) 我從來不看自己失去的，我只珍惜我還擁有的。
 (B) 珍惜每分每秒，勇敢探索未知世界。
 (C) 失去健康，便覺人生無望；事業失敗，便感到心灰意冷；愛情受到打擊，就以為整個世界都要被毀滅。
 (D) 只有含辛茹苦，才能獲得真正的歡樂。

彰化縣社頭國中 109 學年度第 1 學期 1 年級英語科補考

班級： 座號： 姓名：

一、單字配對

- (A) 1. world (A)世界 (B)數字 (C)海報
(B) 2. kitchen (A)浴室 (B)廚房 (C)臥室
(C) 3. life (A)房子 (B)餐廳 (C)生活
(B) 4. prepare (A)留下 (B)準備 (C)繪畫
(A) 5. rabbit (A)兔子 (B)袋鼠 (C)斑馬
(B) 6. group (A)螢幕 (B)團體 (C)地方
(A) 7. shout (A)喊叫 (B)跑步 (C)哭泣
(B) 8. say (A)玩 (B)說 (C)拿
(C) 9. hard (A)可怕的 (B)可愛的 (C)硬的
(B) 10. dinner (A)午餐 (B)晚餐 (C)早餐
(C) 11. noise (A)規則 (B)鼻子 (C)噪音
(C) 12. quiet (A)年輕的 (B)柔軟的 (C)安靜的
(C) 13. special (A)漂亮的 (B)遲到的 (C)特別的
(A) 14. city (A)城市 (B)禮物 (C)樂趣
(B) 15. hungry (A)重的 (B)餓的 (C)醜的
(C) 16. 丈夫 (A) wife (B) daughter (C) husband
(B) 17. 遵守 (A) listen (B) follow (C) make
(C) 18. 博物館 (A) library (B) gym (C) museum
(A) 19. 周末 (A) weekend (B) tonight (C) meeting
(A) 20. 成績 (A) grade (B) class (C) gate
(C) 21. 最喜愛的 (A) different (B) fun (C) favorite
(B) 22. 山 (A) lake (B) mountain (C) pond
(C) 23. 腿 (A) let's (B) long (C) leg
(A) 24. 手機 (A) cellphone (B) telephone (C) television
(C) 25. 在...附近 (A) on (B) between (C) near
(B) 26. 螢幕 (A) stair (B) screen (C) castle
(A) 27. 獅子 (A) lion (B) tiger (C) horse
(A) 28. 室友 (A) roommate (B) bedroom (C) classmate
(C) 29. 星期三 (A) Tuesday (B) Thursday (C) Wednesday
(A) 30. 叔叔 (A) uncle (B) aunt (C) cousin

二、語意配對

- (C) 1. 我的鞋子在哪裡？
(A) What about my shoes?
(B) What are my shoes?
(C) Where are my shoes?
(C) 2. 現在是早上八點。
(A) It's eight p.m.
(B) It's eight in the evening.
(C) It's eight o'clock in the morning.

- (A) 3. 他的爸爸是一位年輕的醫生嗎？
(A) Is his father a young doctor?
(B) Is his father an old doctor?
(C) Is he a young doctor?
(A) 4. 請安靜然後坐下。
(A) Be quiet and sit down, please.
(B) Don't be quiet and sit down.
(C) Please be quiet and stand up.
(C) 5. 那位女孩是誰？
(A) Where is the girl from?
(B) How old is the girl?
(C) Who is the girl?
(B) 6. 有很多人在這裡。
(A) There is a man here.
(B) There are a lot of people here.
(C) There are some people here.
(B) 7. 那是這個女孩的書桌。
(A) That is the girls desk.
(B) That is the girl's desk.
(C) This is the girl's desk.
(B) 8. 你正在做什麼？
(A) How are you doing?
(B) What are you doing?
(C) Are you doing it now?
(A) 9. 今天星期幾？
(A) What day is today?
(B) What date is it?
(C) What time is it?
(C) 10. 那些是什麼？
(A) What are these?
(B) What are they?
(C) What are those?

三、寫出下列單字的複數型

1. family families 2. wife wives
3. box boxes 4. man men
5. sheep sheep 6. watch watches

四、將下列動詞改為現在分詞

1. sit sitting 2. dance dancing
3. draw drawing 4. come coming

題庫

命題範圍 3-1 式子的運算~4 線對稱與三視圖

一、選擇題：每題 4 分，共 25 題

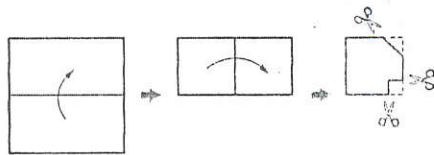
(C) 1. 下列何者是錯誤的？

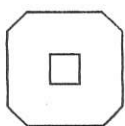
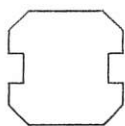
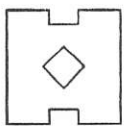
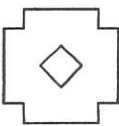
- (A) $x+x=2x$ (B) $x+x+x+5=3x+5$ (C) $axaxa=ax^3$ (D) $3\frac{1}{8}x=(3+\frac{1}{8})xx$

(D) 2. 規格相同的兩種積木，若用等臂天平量得 2 個 \triangle 的重量和 3 個 \square 的重量一樣，則下列哪種情形在等臂天平上也會呈平衡狀態？

- (A)  (B) 
 (C)  (D) 

(B) 3. 如下圖，有 1 張正方形紙張先向上對摺，再向右對摺，最後剪 3 刀，則下列何者為其展開圖？



- (A)  (B)  (C)  (D) 

(D) 4. 一打鮮果汁賣 a 元，則 9 瓶賣多少元？ (A) $9a$ (B) $\frac{a}{12}$ (C) $\frac{a}{9}$ (D) $\frac{3}{4}a$

(B) 5. 若 $(x-3)$ 與 $(-2x-1)$ 互為相反數，則 x 的值為多少？ (A) -5 (B) -4 (C) 4 (D) 5

(A) 6. 方程式 $x - \frac{2x-3}{5} = -1$ 的解為何？ (A) $-\frac{8}{3}$ (B) $-\frac{4}{3}$ (C) $-\frac{2}{3}$ (D) $-\frac{1}{3}$

(D) 7. 下列哪一個國旗不是線對稱圖形？

- (A)  (B)  (C)  (D) 

(C) 8. 小祐有 x 元，若小祐的錢是小傑的 $\frac{4}{5}$ 倍少 6 元，則小傑有多少元？

- (A) $\frac{4}{5}x-6$ (B) $\frac{5}{4}x-6$ (C) $\frac{5}{4}(x+6)$ (D) $\frac{4}{5}(x-6)$

(B) 9. 若阿瑋以時速 x 公里的速度跑了 20 分鐘，則阿瑋共跑了多少公里？

- (A) $\frac{1}{20}x$ (B) $\frac{1}{3}x$ (C) $x+20$ (D) $20x$

(A) 10. 小騰全班在週末至墾丁與鵝鑾鼻郊遊，42 人共租了 16 輛協力車。同學協議每輛只能兩人共騎或三人共騎，請問在這 16 輛協力車中，由兩人共騎的有幾輛？

- (A) 6 (B) 8 (C) 10 (D) 12

(C) 11. 學生分配宿舍，若 8 人住一間，則空下一間房間，若 6 人住一間，則有 10 人沒有房間可住，則學生共有多少人？

- (A) 56 (B) 52 (C) 64 (D) 63

(C) 12. 化簡 $5(3-2y) - 7(3y+4) = ?$

- (A) $-31y-43$ (B) $-31y+43$ (C) $-31y-13$ (D) $-31y+13$

社頭國中 109 學年度第一學期一年級第 3 次段考數學科試題卷

命題範圍 3-1 式子的運算~4 線對稱與三視圖

- (C) 13. 小洳到大崗山爬山，已知她沿相同的步道上山和下山，共花了 3.5 小時。當她上山每小時可走 3 公里，而下山每小時可走 4 公里，則此步道來回共多少公里？
 (A) 6 (B) 9 (C) 12 (D) 18

- (B) 14. 小好解方程式 $\frac{2}{3}x - 2 = 6$ 的步驟如下：

$$\frac{2}{3}x - 2 = 6 \xrightarrow{\text{步驟①}} 2x - 6 = 6 \xrightarrow{\text{步驟②}} 2x = 12 \xrightarrow{\text{步驟③}} x = 6,$$

請問下列敘述哪一個是正確的？

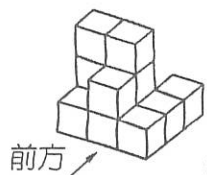
- (A) 所得為正確的結果 (B) 步驟①開始錯了 (C) 步驟②開始錯了 (D) 步驟③開始錯了

- (C) 15. 在等腰三角形中， $\overline{AB} = \overline{AC}$ ， \overline{AD} 為其對稱軸， D 在 \overline{BC} 上，若 $\angle BAD = 30^\circ$ ，則 $\angle C = ?$
 (A) 15° (B) 30° (C) 60° (D) 90°

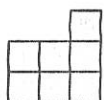
- (D) 16. 同一平面上， \overline{AB} 的平分線有幾條？
 (A) 0 (B) 1 (C) 2 (D) 無限多條

- (C) 17. 小臻生日會當天準備了若干顆糖果，準備平均分給與會來賓，如果每人分 6 顆，還剩下 28 顆糖果；如果每人分 10 顆，則有 2 個人沒有分到糖果，請問糖果有幾顆？ (A) 60 (B) 80 (C) 100 (D) 120

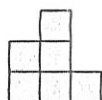
- (D) 18. 如下圖所示，下列何者不是三視圖？



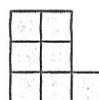
(A)



(B)



(C)



(D)



- (C) 19. 化簡 $\frac{2}{3}(x-4) - \frac{3}{5}(2x-1) = ?$

(A) $-\frac{8}{15}x - \frac{49}{15}$

(B) $-8x - 49$

(C) $-\frac{8}{15}x - \frac{31}{15}$

(D) $-8x - 31$

- (B) 20. 若華氏溫度 = $a \times$ 攝氏溫度 + 32，且華氏溫度與攝氏溫度在「-40 度」時相同，則 $a = ?$

(A) $\frac{5}{9}$

(B) $\frac{9}{5}$

(C) $-\frac{5}{9}$

(D) $-\frac{9}{5}$

- (B) 21. 已知一個長方形的面積為 x 平方公分，若長為 20 公分，則此長方形之周長為多少公分？

(A) $40 + \frac{x}{20}$

(B) $40 + \frac{x}{10}$

(C) $20 + \frac{x}{10}$

(D) $10 + \frac{x}{10}$

- (A) 22. 解方程式 $3(x+4) - 2(x+2) = 5x+3$ ，得 $x = ?$

(A) $\frac{5}{4}$

(B) $\frac{13}{4}$

(C) $-\frac{5}{4}$

(D) $-\frac{13}{4}$

- (A) 23. 若 $1.5 - \frac{x}{3} = \frac{1}{3}$ ，則 $x = ?$ (A) $\frac{7}{2}$ (B) $\frac{9}{2}$ (C) $\frac{11}{2}$ (D) $\frac{13}{2}$

- (A) 24. 若 $x + \frac{x}{2} + \frac{x}{4} + \frac{x}{8} + \frac{x}{16} = 1$ ，則 $x = ?$ (A) $\frac{16}{31}$ (B) $\frac{1}{31}$ (C) $\frac{31}{16}$ (D) 1

- (B) 25. 下列哪一個方程式的解與 $0.5x + 3 = 0.4x - 0.9$ 的解相同？

(A) $5x + 3 = 4x - 9$

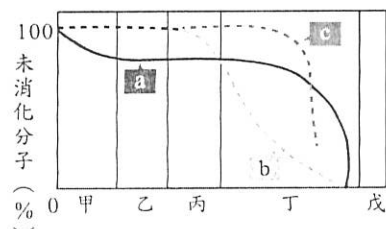
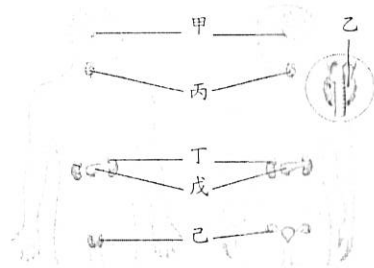
(B) $5x + 30 = 4x - 9$

(C) $5x + 30 = 4x - 90$

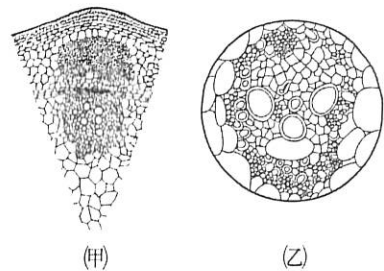
(D) $5x + 3 = 40x - 90$

一、單一選擇題：每題 5 分，共 100 分

- (B)去醫院做血液檢查時，護士會由人體的哪一種血管抽取血液？(A)動脈 (B)靜脈 (C)微血管 (D)淋巴管。
- (D)以下關於細胞內各種構造的敘述，何者錯誤？(A)細胞核含有遺傳物質，為細胞的生命中樞 (B)液泡為動、植物細胞共有的構造，具儲存的功能 (C)葉綠體使細胞呈現綠色，能行光合作用製造葡萄糖 (D)粒線體是動物細胞特有的構造，可產生能量。
- (C)有關生物圈的敘述，何者正確？(A)為海平面上下共一萬公尺的範圍內 (B)生物圈內的環境都差不多，因此可以孕育出豐富的生命 (C)生物通常有著不同的外觀和構造，能適應不同的生存環境。
- (A)人體吸入的氧氣，最後是在下列何處被消耗掉？(A)細胞 (B)肺部 (C)血液 (D)鼻腔。
- (B)細胞是生物的基本單位，請問主要是什麼因素會造成大鯨魚與小蝦米之間體型的差異？(A)細胞的大小 (B)細胞的多寡 (C)細胞製造分泌物的多寡 (D)細胞與細胞之間間隔大小。
- (A)觀察細胞時，常將細胞或組織等放置於載玻片中央的水溶液中，輕輕的蓋上蓋玻片後，就製作成了水埋玻片，再利用光學複式顯微鏡觀察。今小豹想觀察水蘊草葉片表皮細胞的細胞膜，請問將水蘊草葉片分別浸泡於下列各種溶液一段時間後，所製作成的水埋玻片，何者最容易看到細胞膜？(A)濃食鹽水 (B)純水 (C)碘液
- (B)關於植物葉片行光合作用時所產生養分的運輸，下列敘述何者錯誤？(A)是經由韌皮部來運輸 (B)運輸方向只能由上往下 (C)可將多的養分運輸至莖或根儲存 (D)運輸的原則是由提供的地方送至需求的地方
- (B)人體中鈣的濃度，是由附圖中的哪個腺體所調節？(A)甲 (B)乙 (C)丁 (D)戊。
- (C)附圖的甲~戊表示人類消化管的各器官，而 a~c 為食物中所含的養分，依養分被消化分解的過程，可推論甲~戊所對應的消化器官，下列哪一個選項是錯誤的？(A)甲是口腔 (B)丙是胃 (C)丁是胰臟 (D)戊是大腸。
- (A)寒流來襲，人在戶外臉色會較為蒼白，其原因及作用為何？(A)血管收縮，減少散熱 (B)血管收縮，增加散熱 (C)血管擴張，減少散熱 (D)血管擴張，增加散熱。

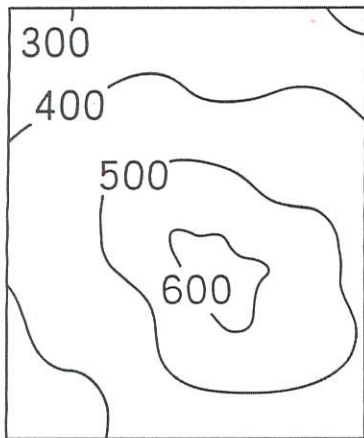


- (C)下列何者是植物進行光合作用的產物？(A)太陽能 (B)二氧化碳 (C)氧氣 (D)葉綠素。
- (B)動物的行為可分為本能，和需經過後天學習的，下列何者不屬於動物的本能行為？(A)蜘蛛結網補食昆蟲 (B)導盲犬協助盲人過馬路 (C)候鳥冬天遷徙到溫暖的地方 (D)腳踩到尖物立即縮回。
- (C)動物所產生的各種反應，主要是由下列哪兩個器官系統共同控制？(A)消化系統、循環系統 (B)循環系統、神經系統 (C)神經系統、內分泌系統 (D)內分泌系統、呼吸系統。
- (C)為什麼放在冰箱外的食物比放在冰箱內的食物容易腐敗？(A)冰箱內缺乏光線 (B)冰箱內沒有細菌 (C)冰箱內溫度低，酵素活性低。
- (A)下列何者較適合使用解剖顯微鏡觀察？(A)螞蟻的觸角 (B)人的口腔皮膜細胞 (C)細菌。
- (D)「毛豆」就是尚未成熟、青綠色的大豆，附圖為常見的毛豆莢，剝開後有 2~3 顆毛豆。通常農夫於豆莢生長至 80% 飽滿狀態時採摘，此時豆莢呈綠色且帶有茸毛，故稱為毛豆。下列有關毛豆的敘述，何者正確？(A)毛豆屬於組織，豆莢則屬於器官 (B)毛豆屬於營養器官，豆莢則屬於生殖器官 (C)毛豆屬於生殖器官，豆莢則屬於營養器官 (D)毛豆與豆莢皆屬於生殖器官
- (B)某些假說在經過多次的實驗探討和證實後，會形成學說，請問下列關於學說的敘述，何者正確？(A)學說地位不可撼動，一旦提出後就不可修改 (B)若有新的技術可以重新設計實驗，學說也會有被修正的可能 (C)只要是知名科學家提出的理論，就可算是學說 (D)學說是經過實驗證實的，對於學說的論述不需質疑。
- (B)小華與小明觀察附圖中，兩種植物莖的橫切面時，兩人分別做了以下評論，關於兩人所說的，何者正確？(A)小華：甲圖具有形成層，應該是水稻 (B)小明：甲圖的維管束應該是環狀排列 (C)小華：乙圖應該是向日葵的維管束。
- (B)學習能力強的動物，通常神經系統中的哪一個部位較為發達？(A)小腦 (B)大腦 (C)脊髓 (D)腦幹。
- (D)下列有關人體各種物質排出體外的過程，何者不可稱為排泄作用？(A)水分由皮膚排汗到體外 (B)二氧化碳由肺部呼出體外 (C)尿素由腎臟形成尿液後排出體外 (D)食物殘渣由肛門排出體外。



社頭國中 七年級 社會科 109 學年上學期 補考考試題庫卷

- () 臺灣早期重要港口多位於西部沿海，近年來隨著貨運需求增加、船隻規模變大，該地區的港口卻逐漸沒落。請問：此一現象與下列何者有關？ (A)沙灘侵蝕流失 (B)沿海平原較廣 (C)海岸線較平直 (D)海水深度較淺 **《答案》D**
- () 澎湖縣年降水量僅有 1,000 毫米左右，為臺灣相對降水較少的地區。請問：造成澎湖年降水量少的主因為何？ (A)地勢低平難阻水氣 (B)夏季對流雨不興盛 (C)位於東北季風的背風側 (D)緯度高水氣難蒸發致雨 **《答案》A**
- () 河川是臺灣最常取得的水資源來源，當河川水源不足時，居民常以哪種方式取得輔助水源？ (A)利用海水淡化 (B)從國外進口淡水 (C)抽取地下水使用 (D)廢水回收再利用 **《答案》C**
- () 位置的描述可以用許多的方式來表達。請問：下列何者是「絕對位置」的描述？ (A)學校地址是中興路 116 號 (B)校門口在蓮花池塘的北方 (C)小韶的座位在小華的右邊 (D)音樂教室在操場的東北方 **《答案》A**
- () 西元 2018 年底，晚上 10 點時小多和朋友正準備出門跨年，而他的外國網友透過通訊軟體說：「我們這裡已經晚上 11 點了，我在跨年晚會現場囉！」請問：小多的網友應該位在下列哪座城市？ (A)日本大阪 (135°E) (B)美國紐約(75°W) (C)美國舊金山 (120°W) (D)英國倫敦(0°) **《答案》A**
- () 鄰近中國的馬祖列嶼為大陸島，其形成原因與下列何種作用關係最密切？ (A)海面上升 (B)陸地隆起 (C)珊瑚生長 (D)火山噴發 **《答案》A**
- () 山坡地過度開墾容易導致土石流災情。請問：下列哪個縣市發生土石流的機率最小？ (A)臺北市 (B)澎湖縣 (C)臺中市 (D)花蓮縣 **《答案》B**
- () 下圖是康康國中附近一座小山的等高線地形圖，推測該座小山的山頂海拔高度可能是下列何者？ (A)580 公尺 (B)600 公尺 (C)660 公尺 (D)720 公尺



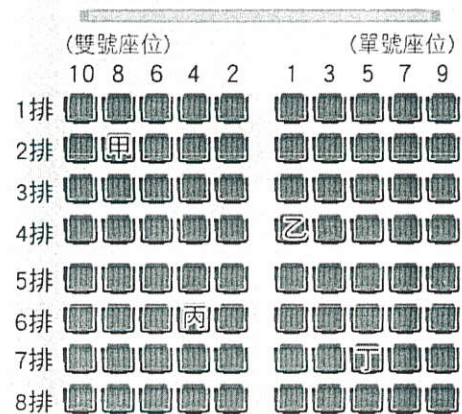
- () 曉晴參加臺灣東部文化之旅，聽到解說員提到：「根據學者推測，這些人已有群居生活，但是不會製作陶器，也不懂農耕技術，主要的生活工具只有敲打方式製作的石器，以及用動物骨頭加工的角器。」據此推斷，這應是哪一時代的先民生活？ (A)舊石器時代 (B)新石器時代早期 (C)新石器時代晚期 (D)金屬器時代晚期 **《答案》A**
- () 鄭氏治臺期間，原住民族曾多次起義反抗，此應與原住民的何種遭遇有關？ (A)被迫配合出兵征伐 (B)原住民娶妻不容易 (C)生活空間受到侵擾 (D)被迫集體開墾荒地。 **《答案》C**
- () 鄭經統治時期，曾在臺推動文教建設，以下列何者為例？ (A)推動義務教育 (B)教導閱讀聖經 (C)籌畫建立孔廟 (D)教授新港語文 **《答案》C**

- () 地球表面分為海洋和陸地兩部分，而海洋可分為三大洋，陸地則有七大洲，海陸分布不均。請問：下列何者是全球海陸分布的特性之一？ (A)海洋部分占全球面積約 29% (B)全球一半以上的海洋位於北半球 (C)全球多數陸地都位於南半球 (D)太平洋是全世界面積最大的海域 **《答案》D**
- () 布農族的卡度部落召開部落會議，積極推動部落傳統領域的劃設工作，針對與邵族傳統領域出現重疊爭議的土地，希望能提出新事證，以和平理性的方式進行協商、化解爭端。根據上述判斷，對於原住民族而言，部落會議主要具備了何項功能？ (A)繼承土地劃分 (B)決定部落事務 (C)學習祖先智慧 (D)尋找文化根源 **《答案》B**
- () 某次颱風過境帶來大雨，造成高雄山區嚴重土石流，甚至沖毀住宅橋梁，救災人員選用衛星影像圖來了解救災現場狀況。請問：主要是因為其何種特性？ (A)拍攝範圍小 (B)更新速度快 (C)比例尺固定 (D)圖例較清楚 **《答案》B**
- () 請閱讀右側資料，判斷「頂下郊拼」發生的主要原因為何？

資料一：十八世紀後期，移民至艋舺的泉州人以從事海峽兩岸貿易維生。十九世紀，艋舺的泉州移民漸多，並發展出下郊(同安人移民組成)與頂郊(晉江、惠安、南安三縣移民合組)兩行郊。兩大商業團體為了爭奪艋舺碼頭的貨運，時常發生衝突。

資料二：西元 1853 年，雙方發生激烈的械鬥，是為「頂下郊拼」。同安人遭到驅離，轉到大稻埕興建店街，利用淡水河從事貿易，而後在大稻埕建了霞海城隍廟，奉祀從械鬥中救出的城隍爺神像。

- () 祖籍不同 (B)爭奪田地 (C)爭奪水源 (D)商業競爭 **《答案》D**
- () 小芸與同學去看電影，她的電影票上的座位號碼是「6 排 4 號」，請依據電影院座位安排規則，找出小芸應該坐在右圖中哪個座位？



- (A)甲 (B)乙 (C)丙 (D)丁 **《答案》C**

17. () 隨著颱風中心靠近，氣象測站可測得氣壓值明顯下降，此種現象是因為颱風的何項特色造成的？ (A) 颱風眼內天氣晴朗，氣壓出現驟降 (B) 颱風是熱帶性低壓，中心氣壓較低 (C) 颱風中心風力強勁，造成空氣稀薄 (D) 颱風外圍環流帶來降水，悶熱高溫

《答案》B

18. () 分層設色圖是以不同顏色來表現地形的高度變化。請問：通常會以何種顏色來代表平原地形？ (A) 褐色 (B) 黃色 (C) 紅色 (D) 綠色

《答案》D

19. () 根據西班牙文獻記載：臺灣北部的原住民不但善於操舟，且懂得外語，在尚未接觸外人前，已經與海商間有貿易往來。上述臺灣北部的原住民應該是下列何者？ (A) 馬賽族 (B) 泰雅族 (C) 賽夏族 (D) 西拉雅族。

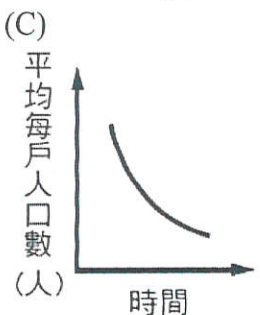
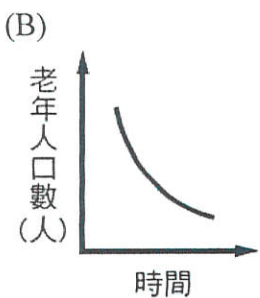
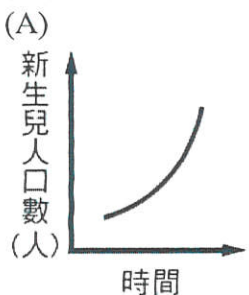
《答案》A

20. () 下列為太巴塌部落的傳說故事，從內容中得知，部落種植的紅糯米背後蘊含的意義為何？ (A) 部落文化的傳承保存 (B) 部落族人的互助扶持 (C) 基督信仰的傳統儀式 (D) 共耕共享的經濟制度

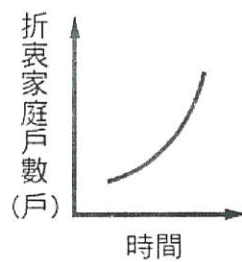
花蓮縣太巴塌部落的族人除了信奉祖靈外，也信仰太陽神(Ina)。傳說中太巴塌的祖先因為無法生下具人形的小孩而感到悲傷。太陽神得知後便送來裝有紅糯米的竹筒，祖先吃下紅糯米後，才生下孩子，成為阿美族的血脈。自此之後，部落家家戶戶都會種植紅糯米，族人也會自行留下種子，代代相傳。

《答案》A

21. () 婚姻價值觀的改變，使得現代人對於婚姻與家庭的選擇愈來愈多元化，例如：許多人選擇不婚、晚婚或結婚不生小孩。因此有學者認為此種現象代表家庭功能正在轉變當中。請問：下列何種變化的趨勢可能與此種家庭功能轉變有關？



(D)



《答案》C

22. () 附表是我國 2018 年男、女性常見的名字統計前十名。從表中男、女性名字中常出現的字，可以看出家長對男、女性小孩的期待。這種命名的意涵顯示了下列哪一種性別概念？ (A) 社會性別 (B) 生理性別 (C) 性別偏見 (D) 性別歧視

2018我國前10大常見名字		
男性 ♂		女性 ♀
家豪	1	淑芬
志明	2	淑惠
俊傑	3	美玲
建宏	4	雅婷
俊宏	5	美惠
志豪	6	麗華
志偉	7	淑娟
文雄	8	淑貞
承翰	9	怡君
冠宇	10	淑華

資料來源：內政部戶政司 107年6月30日彙製

《答案》A

23. () 學校在安排學生健康檢查前，皆會分發「健康檢查說明暨受檢同意書」，內容包含檢查項目、進行方式與注意事項，並特別明訂：檢查涉及身體隱私部位時，如胸部、腹部、泌尿及生殖器，如果感到不舒服，可立即當場拒絕。請問：上述內容主要是保障學生哪方面的權利？ (A) 學習權 (B) 財產權 (C) 人格權 (D) 受教權

《答案》C

24. () 新聞報導，行政院擬修法規定兒女惡意不扶養父母，有重大虐待、侮辱或無正當理由不扶養，經父母以遺囑、書面、錄音或記錄影音等方式舉證後，經(甲)機關判決，兒女將喪失(乙)權利。請問：上文敘述之甲、乙分別為以下何者？ (A) 甲：法院、乙：繼承 (B) 甲：社會局、乙：親權 (C) 甲：警察局、乙：繼承 (D) 甲：法院、乙：親權

《答案》A

25. () 地圖是日常生活經常使用的重要工具，能夠讓我們知道重要的地理資訊。請問：若我們想在地圖上尋找郵局和學校，應該要先參考何項地圖要素？ (A) 圖名 (B) 圖例 (C) 方向標 (D) 比例尺

《答案》B